

Name:

Klasse/Jahrgang:

Standardisierte kompetenzorientierte
schriftliche Reife- und Diplomprüfung

BHS

17. September 2021

Angewandte Mathematik

HAK

Hinweise zur Aufgabenbearbeitung

Liebe Kandidatin! Lieber Kandidat!

Das vorliegende Aufgabenheft enthält Teil-A-Aufgaben und Teil-B-Aufgaben mit jeweils unterschiedlich vielen Teilaufgaben. Die Teilaufgaben sind unabhängig voneinander bearbeitbar.

Verwenden Sie für die Bearbeitung ausschließlich dieses Aufgabenheft und das Ihnen zur Verfügung gestellte Arbeitspapier. Schreiben Sie Ihren Namen und Ihren Jahrgang bzw. Ihre Klasse in die dafür vorgesehenen Felder auf dem Deckblatt des Aufgabenhefts sowie Ihren Namen und die fortlaufende Seitenzahl auf jedes verwendete Blatt Arbeitspapier. Geben Sie bei der Beantwortung jeder Teilaufgabe deren Bezeichnung (z. B.: 3d1) auf dem Arbeitspapier an.

In die Beurteilung wird alles einbezogen, was nicht durchgestrichen ist. Streichen Sie Notizen durch.

Die Verwendung der vom zuständigen Regierungsmitglied für die Klausurarbeit freigegebenen Formelsammlung für die SRDP in Angewandter Mathematik ist erlaubt. Weiters ist die Verwendung von elektronischen Hilfsmitteln (z. B. grafikfähiger Taschenrechner oder andere entsprechende Technologie) erlaubt, sofern keine Kommunikationsmöglichkeit (z. B. via Internet, Intranet, Bluetooth, Mobilfunknetzwerke etc.) gegeben ist und der Zugriff auf Eigendateien im elektronischen Hilfsmittel nicht möglich ist.

Eine Erläuterung der Antwortformate liegt im Prüfungsraum zur Durchsicht auf.

Handreichung für die Bearbeitung

- Jede Berechnung ist mit einem nachvollziehbaren Rechenansatz und einer nachvollziehbaren Dokumentation des Technologieeinsatzes (die verwendeten Ausgangsparameter und die verwendete Technologiefunktion müssen angegeben werden) durchzuführen.
- Selbst gewählte Variablen sind zu erklären und gegebenenfalls mit Einheiten zu benennen.
- Ergebnisse sind eindeutig hervorzuheben.
- Ergebnisse sind mit entsprechenden Einheiten anzugeben, wenn dies in der Handlungsanweisung explizit gefordert wird.
- Werden Diagramme oder Skizzen als Lösungen erstellt, so sind die Achsen zu skalieren und zu beschriften.
- Werden geometrische Skizzen erstellt, so sind die lösungsrelevanten Teile zu beschriften.
- Vermeiden Sie frühzeitiges Runden.
- Legen Sie allfällige Computerausdrucke der Lösung mit Ihrem Namen beschriftet bei.
- Wird eine Aufgabe mehrfach gerechnet, so sind alle Lösungswege bis auf einen zu streichen.

So ändern Sie Ihre Antwort bei Aufgaben zum Ankreuzen:

1. Übermalen Sie das Kästchen mit der nicht mehr gültigen Antwort.
2. Kreuzen Sie dann das gewünschte Kästchen an.

Hier wurde zuerst die Antwort „ $5 + 5 = 9$ “ gewählt und dann auf „ $2 + 2 = 4$ “ geändert.

$1 + 1 = 3$	<input type="checkbox"/>
$2 + 2 = 4$	<input checked="" type="checkbox"/>
$3 + 3 = 5$	<input type="checkbox"/>
$4 + 4 = 4$	<input type="checkbox"/>
$5 + 5 = 9$	<input checked="" type="checkbox"/>

So wählen Sie eine bereits übermalte Antwort:

1. Übermalen Sie das Kästchen mit der nicht mehr gültigen Antwort.
2. Kreuzen Sie das gewünschte übermalte Kästchen ein.

Hier wurde zuerst die Antwort „ $2 + 2 = 4$ “ übermalen und dann wieder gewählt.

$1 + 1 = 3$	<input type="checkbox"/>
$2 + 2 = 4$	<input checked="" type="checkbox"/>
$3 + 3 = 5$	<input type="checkbox"/>
$4 + 4 = 4$	<input checked="" type="checkbox"/>
$5 + 5 = 9$	<input type="checkbox"/>

Es gilt folgender Beurteilungsschlüssel:

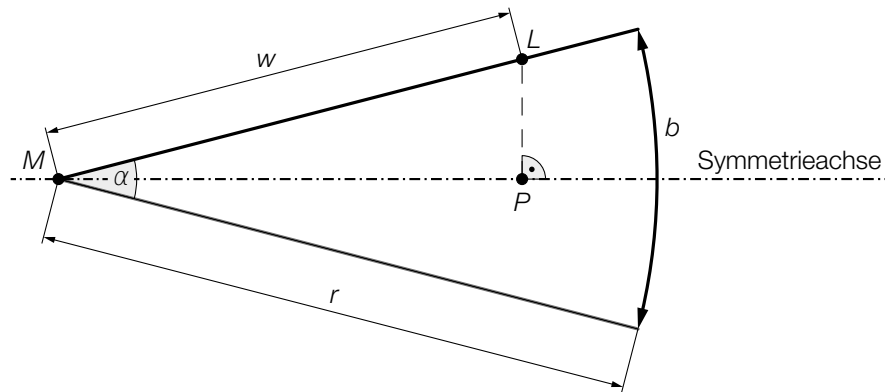
44–48 Punkte	Sehr gut
38–43 Punkte	Gut
31–37 Punkte	Befriedigend
23–30 Punkte	Genügend
0–22 Punkte	Nicht genügend

Viel Erfolg!

Aufgabe 1

Speerwurf

- a) Der Wurfbereich beim Speerwurf hat die Form eines Kreissektors (siehe nachstehende nicht maßstabgetreue Abbildung in der Ansicht von oben).



z ist die Differenz aus der tatsächlichen Wurfweite $w = \overline{ML}$ und der Streckenlänge \overline{MP} .

- 1) Stellen Sie unter Verwendung von w und α eine Formel zur Berechnung von z auf.

$z =$ _____ [0/1 P.]

Für die Bogenlänge b des Kreissektors und den Öffnungswinkel α des Kreissektors gilt:

$$b = 48,08 \text{ m}$$

$$\alpha = 29^\circ$$

- 2) Berechnen Sie den Radius r des Kreissektors. [0/1 P.]

- b) Ein Teil des Graphen der Funktion f beschreibt die Flugbahn der Speerspitze bei einem bestimmten Wurf.

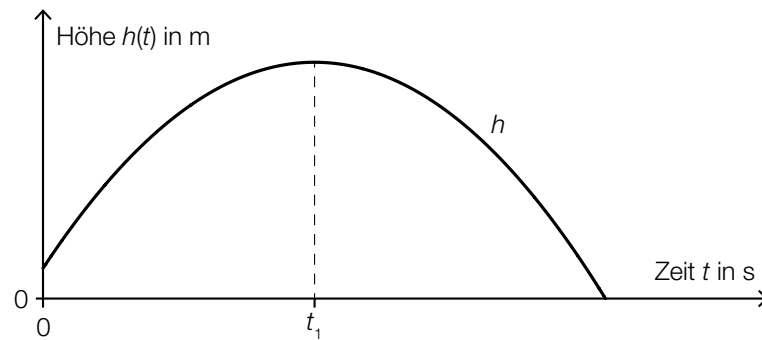
$$f(x) = -0,01 \cdot x^2 + 0,7 \cdot x + 1,8 \quad \text{mit } x \geq 0$$

x ... horizontale Entfernung vom Abwurfpunkt in m

$f(x)$... Höhe über dem Boden bei der horizontalen Entfernung x in m

- 1) Berechnen Sie die horizontale Entfernung vom Abwurfpunkt, in der die Speerspitze bei diesem Wurf auf dem Boden auftrifft. [0/1 P.]

- c) Die quadratische Funktion h beschreibt die Höhe der Speerspitze während eines bestimmten Wurfes in Abhängigkeit von der Zeit t (siehe nachstehende Abbildung).



- 1) Ordnen Sie den beiden Satzanfängen jeweils eine Fortsetzung aus A bis D so zu, dass zutreffende Aussagen entstehen. [0/1 P.]

Die momentane Änderungsrate von h zur Zeit t ist negativ für	
Die momentane Änderungsrate von h zur Zeit t ist null für	

A	$t = 0$
B	$t = t_1$
C	$t < t_1$
D	$t > t_1$

Aufgabe 2

Kartenspiel

a) Ein Kartenstapel besteht aus 20 *Diener*-Karten und 10 *Zauber*-Karten. Sabine zieht zufällig ohne Zurücklegen 3 Karten aus diesem Kartenstapel.

1) Berechnen Sie die Wahrscheinlichkeit, dass Sabine dabei genau 1 *Zauber*-Karte zieht.

[0/1 P.]

2) Beschreiben Sie ein Ereignis E im gegebenen Sachzusammenhang, dessen Wahrscheinlichkeit mit dem nachstehenden Ausdruck berechnet wird.

$$P(E) = 1 - \frac{20}{30} \cdot \frac{19}{29} \cdot \frac{18}{28} = 0,719\dots$$

[0/1 P.]

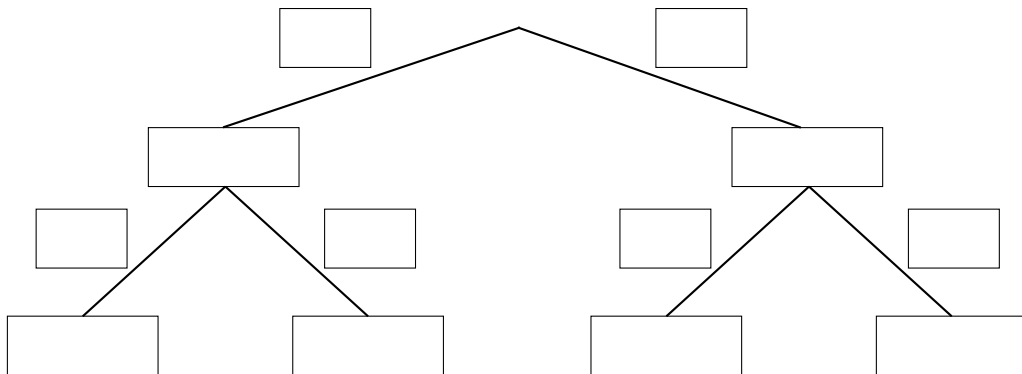
b) Lukas wählt für 40 % seiner Spiele eine aggressive Strategie, für die restlichen Spiele wählt er eine defensive Strategie.

Spiele, für die er eine aggressive Strategie wählt, gewinnt er mit der Wahrscheinlichkeit p .

Spiele, für die er eine defensive Strategie wählt, gewinnt er mit einer Wahrscheinlichkeit von 54 %.

1) Vervollständigen Sie das nachstehende Baumdiagramm so, dass es den beschriebenen Sachverhalt wiedergibt.

[0/1 P.]



Die Wahrscheinlichkeit, dass Lukas ein zufällig ausgewähltes Spiel gewinnt, beträgt 53,2 %.

2) Berechnen Sie die Wahrscheinlichkeit p .

[0/1 P.]

Aufgabe 3

Leuchtdioden

Leuchtdioden (LEDs) werden häufig als Beleuchtungsmittel verwendet.

- a) LEDs haben einen begrenzten Öffnungswinkel. Für eine sogenannte *Rundum-Beleuchtung* werden daher mehrere LEDs benötigt. Die Anzahl der LEDs gleicher Bauart, die für eine Rundum-Beleuchtung benötigt werden, kann gemäß der nachstehenden Vorschrift berechnet werden.

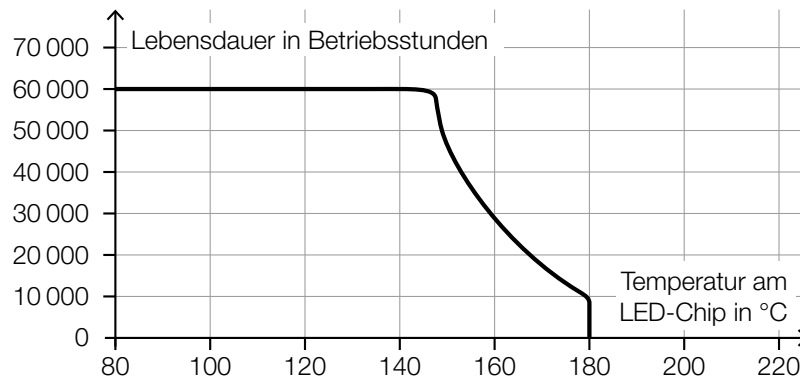
Dividiere 1 durch den Sinus von einem Viertel des Öffnungswinkels.

Quadriere die erhaltene Zahl.

Ist das nun erhaltene Ergebnis nicht ganzzahlig, dann runde es auf die nächstgrößere ganze Zahl auf.

- 1) Berechnen Sie die Anzahl der LEDs mit einem Öffnungswinkel von 40° , die man gemäß der obigen Vorschrift für eine Rundum-Beleuchtung benötigt. [0/1 P.]

- b) Die Lebensdauer von LEDs ist abhängig von der Temperatur am LED-Chip. Auf einer Website ist dieser Zusammenhang grafisch dargestellt (siehe nachstehende Abbildung).



Quelle: <https://www.led-studien.de/wp-content/uploads/2015/10/Lebensdauer-nach-LED-Temperatur.png> [16.08.2019] (adaptiert).

- 1) Ermitteln Sie die mittlere Änderungsrate der Lebensdauer bei Erhöhung der Temperatur von 140°C auf 160°C . [0/1 P.]
- 2) Begründen Sie, warum es sich bei der in der obigen Abbildung dargestellten Kurve nicht um den Graphen einer Funktion handeln kann. [0/1 P.]

- c) Ein Maß für die Helligkeit einer Lichtquelle ist der sogenannte *Lichtstrom*. Dieser wird in der Einheit Lumen angegeben.
Man geht davon aus, dass der maximale Lichtstrom von LEDs durch technische Weiterentwicklung exponentiell ansteigen wird.
Dabei gilt: Alle 10 Jahre steigt der maximale Lichtstrom von LEDs auf das 20-Fache.

Diese Entwicklung kann durch eine Exponentialfunktion L modelliert werden.

$$L(t) = L_0 \cdot a^t$$

t ... Zeit in Jahren

$L(t)$... maximaler Lichtstrom zur Zeit t in Lumen

L_0 ... maximaler Lichtstrom zur Zeit $t = 0$ in Lumen

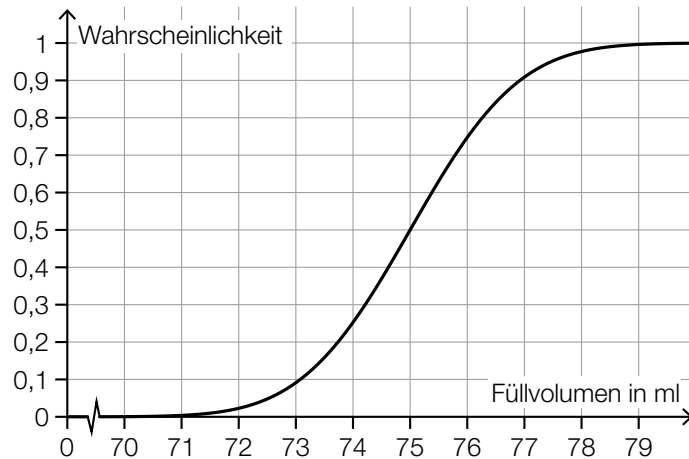
a ... positiver Parameter

- 1) Berechnen Sie den Parameter a . [0/1 P.]
- 2) Interpretieren Sie den Wert des Parameters a im gegebenen Sachzusammenhang. [0/1 P.]

Aufgabe 4

Kosmetikartikel

- a) Ein Parfum wird in bestimmte Fläschchen abgefüllt. Das Füllvolumen wird dabei als annähernd normalverteilt mit der Standardabweichung $\sigma = 1,5$ ml angenommen. In der nachstehenden Abbildung ist der Graph der zugehörigen Verteilungsfunktion dargestellt.



- 1) Lesen Sie aus der obigen Abbildung den Erwartungswert μ des Füllvolumens ab.

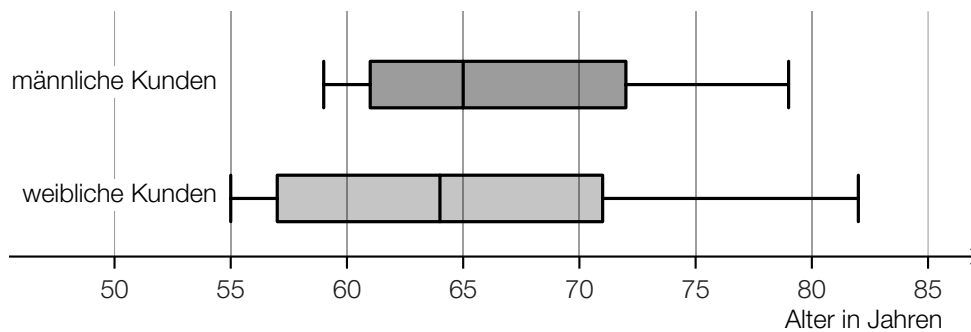
$$\mu = \underline{\hspace{2cm}} \text{ ml}$$

[0/1 P.]

- 2) Ermitteln Sie dasjenige um μ symmetrische Intervall, in dem das Füllvolumen eines zufällig ausgewählten Fläschchens mit einer Wahrscheinlichkeit von 80 % liegt. [0/1 P.]
- 3) Veranschaulichen Sie in der obigen Abbildung die Wahrscheinlichkeit, dass das Füllvolumen eines zufällig ausgewählten Fläschchens höchstens 76 ml beträgt. [0/1 P.]

- b) Ein bestimmter Kosmetikartikel wurde sowohl von männlichen als auch von weiblichen Kunden gekauft.

Eine Erhebung zum Alter aller Kunden, die diesen Kosmetikartikel gekauft haben, ist in der nachstehenden Abbildung in Form zweier Boxplots zusammengefasst.



- 1) Kreuzen Sie die zutreffende Aussage an. [1 aus 5]

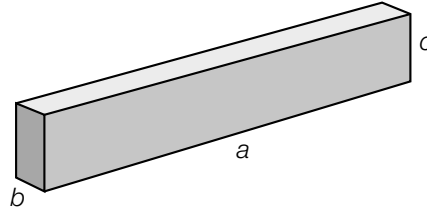
[0/1 P.]

Die Spannweite des Alters der weiblichen Kunden ist kleiner als diejenige der männlichen Kunden.	<input type="checkbox"/>
Die jüngste Person, die den Kosmetikartikel gekauft hat, ist männlich.	<input type="checkbox"/>
Der Median des Alters der männlichen Kunden ist größer als derjenige der weiblichen Kunden.	<input type="checkbox"/>
Mehr als die Hälfte der weiblichen Kunden ist älter als 65 Jahre.	<input type="checkbox"/>
Das 3. Quartil des Alters der weiblichen Kunden ist größer als dasjenige der männlichen Kunden.	<input type="checkbox"/>

Aufgabe 5

Holzfeuchte und Holz Trocknung

- a) Beim Trocknen verkürzen sich die Seitenlängen eines feuchten quaderförmigen Holzstücks.



a, b, c ... Seitenlängen des quaderförmigen Holzstücks in feuchtem Zustand

In trockenem Zustand ist die Seitenlänge a um 0,5 %, die Seitenlänge b um 10 % und die Seitenlänge c um 5 % kürzer als in feuchtem Zustand.

- 1) Stellen Sie eine Formel zur Berechnung des Volumens V des quaderförmigen Holzstücks in trockenem Zustand auf. Verwenden Sie dabei die Seitenlängen a, b und c .

$V =$ _____ [0/1 P.]

- 2) Ermitteln Sie, um wie viel Prozent das Volumen des quaderförmigen Holzstücks in trockenem Zustand kleiner als in feuchtem Zustand ist. [0/1 P.]

- b) Holzbretter der gleichen Holzsorte mit verschiedenen Dicken trocknen unterschiedlich schnell. Dieser Zusammenhang kann näherungsweise durch die nachstehende Formel beschrieben werden.

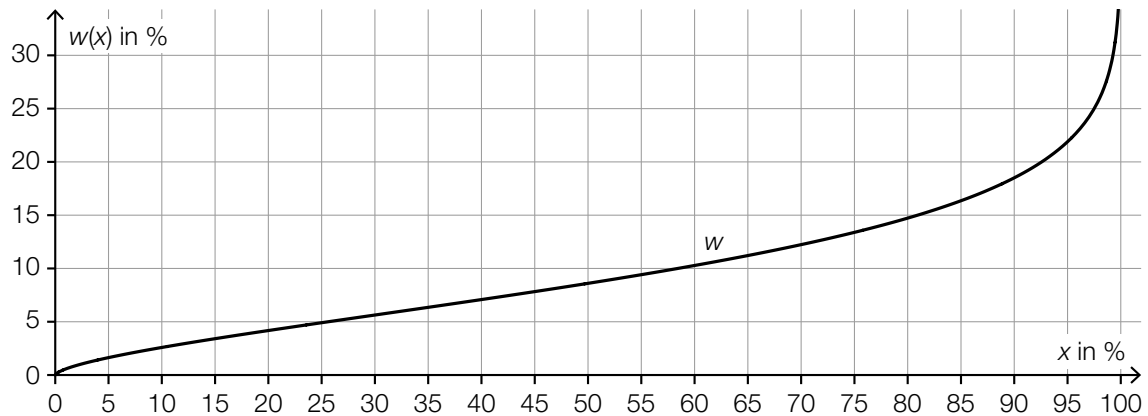
$$\frac{T}{t} = \left(\frac{D}{d}\right)^{1,5}$$

	Dicke	Trockenzeit
Holzbrett 1	d	t
Holzbrett 2	D	T

- 1) Kreuzen Sie denjenigen Ausdruck an, der nicht dem obigen Zusammenhang entspricht. [1 aus 5] [0/1 P.]

$\frac{T}{t} = \left(\frac{D}{d}\right)^{\frac{3}{2}}$	<input type="checkbox"/>
$\frac{T}{t} = \left(\frac{d}{D}\right)^{-1,5}$	<input type="checkbox"/>
$\frac{T}{t} = \sqrt{\left(\frac{D}{d}\right)^3}$	<input type="checkbox"/>
$\frac{t}{T} = \left(\frac{d}{D}\right)^{-\frac{3}{2}}$	<input type="checkbox"/>
$\frac{t}{T} = \left(\frac{d}{D}\right)^{1,5}$	<input type="checkbox"/>

- c) Im nachstehenden Diagramm ist der Zusammenhang zwischen der relativen Luftfeuchtigkeit x (in Prozent) und dem Wassergehalt $w(x)$ (in Prozent) einer bestimmten Holzsorte bei der Lagerung dargestellt.



- 1) Kennzeichnen Sie im obigen Diagramm denjenigen Punkt $P = (x_0 | w(x_0))$, für den gilt:

$$w'(x_0) = 1$$

[0/1 P.]

Der im obigen Diagramm dargestellte Zusammenhang soll im Intervall $[45; 55]$ mithilfe der Punkte $A = (45 | 7,8)$ und $B = (55 | 9,4)$ durch eine lineare Funktion modelliert werden.

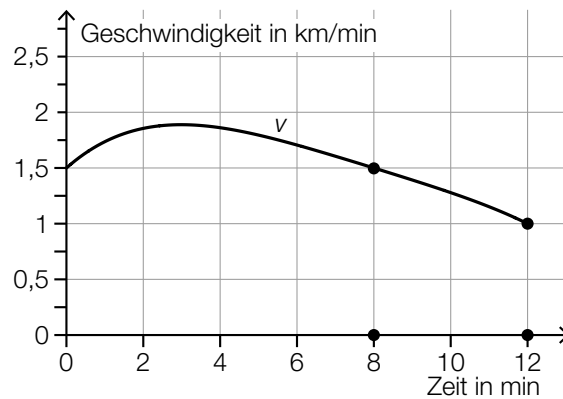
- 2) Stellen Sie eine Gleichung dieser linearen Funktion auf.

[0/1 P.]

Aufgabe 6

Bordcomputer

Ein Bordcomputer hat 12 min lang die Geschwindigkeit eines PKW aufgezeichnet. Der Graph der so ermittelten Geschwindigkeit-Zeit-Funktion v ist im nachstehenden Diagramm modellhaft dargestellt.



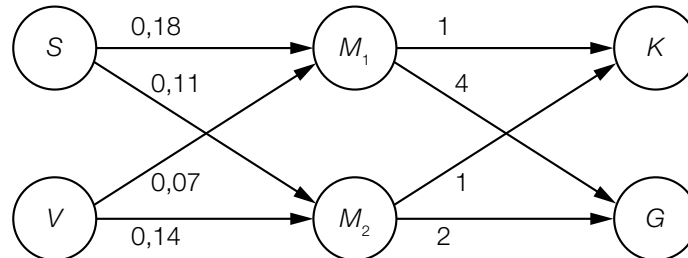
- a) Der Flächeninhalt zwischen dem Graphen von v und der Zeitachse im Intervall $[8 \text{ min}; 12 \text{ min}]$ kann durch den Flächeninhalt eines Vierecks angenähert werden. Die gekennzeichneten Gitterpunkte sind die Eckpunkte dieses Vierecks.
- 1) Berechnen Sie den Flächeninhalt dieses Vierecks. [0/1 P.]
 - 2) Interpretieren Sie diesen Flächeninhalt im gegebenen Sachzusammenhang. Geben Sie dabei auch die zugehörige Einheit an. [0/1 P.]
- b) Ein Motorrad ist in diesen 12 min mit einer konstanten Geschwindigkeit von 1,75 km/min gefahren.
- 1) Zeichnen Sie im obigen Diagramm den Graphen der Geschwindigkeit-Zeit-Funktion dieses Motorrads ein. [0/1 P.]
- c) 1) Kreuzen Sie die zutreffende Aussage an. [1 aus 5] [0/1 P.]

Der vom PKW zurückgelegte Weg nimmt im Intervall $[4 \text{ min}; 8 \text{ min}]$ ab.	<input type="checkbox"/>
Die Geschwindigkeit des PKW nimmt im Intervall $[4 \text{ min}; 8 \text{ min}]$ zu.	<input type="checkbox"/>
Die Beschleunigung des PKW ist im Intervall $[4 \text{ min}; 8 \text{ min}]$ negativ.	<input type="checkbox"/>
Die mittlere Geschwindigkeit des PKW ist im Intervall $[4 \text{ min}; 8 \text{ min}]$ geringer als 1,5 km/min.	<input type="checkbox"/>
Es gibt einen Zeitpunkt im Intervall $[4 \text{ min}; 8 \text{ min}]$, zu dem der PKW mit 75 km/h fährt.	<input type="checkbox"/>

Aufgabe 7 (Teil B)

Puddingmischungen

Aus reinen Puddingsorten werden verschiedene Mischsorten produziert. Diese werden in verschiedenen Packungen verkauft. Der nachstehende Gozinto-Graph bildet diesen Produktionsprozess ab.



S ... reiner Schokoladepudding (in Litern)

V ... reiner Vanillepudding (in Litern)

M_1 ... Mischsorte 1: Schokoladepudding mit Vanille-Sprenkeln (in Bechern)

M_2 ... Mischsorte 2: Vanillepudding mit Schoko-Sprenkeln (in Bechern)

K ... Kleinpackungen (in Stück)

G ... Großpackungen (in Stück)

- a) 1) Ermitteln Sie den Prozentsatz an Schokoladepudding in einem Becher M_1 . [0/1 P.]
- 2) Übertragen Sie den Gozinto-Graphen in 2 Matrizen, die den Mengenbedarf an reinen Puddingsorten für die Mischsorten bzw. den Mengenbedarf an Mischsorten für die Packungen beschreiben. [0/1 P.]

Ein Supermarkt bestellt 300 Klein- und 200 Großpackungen.

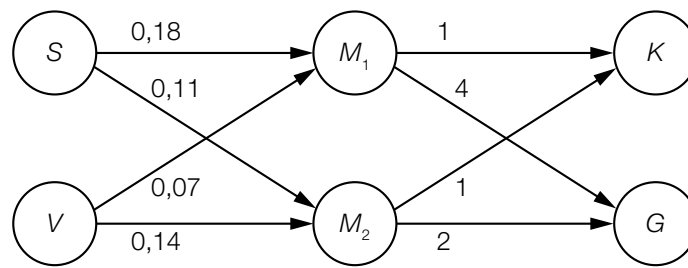
- 3) Ermitteln Sie die dafür jeweils benötigte Menge an Schokolade- und Vanillepudding in Litern. [0/1 P.]

- b) Der Produktionsablauf wird verändert. Die quadratische Matrix \mathbf{A} beschreibt die Produktionsverflechtungen zwischen den reinen Puddingsorten, den Mischsorten und den Packungen (in der Reihenfolge S, V, M_1 , M_2 , K, G).

$$\mathbf{A} = \begin{pmatrix} 0 & 0 & 0,18 & 0,11 & 0 & 0,50 \\ 0 & 0 & 0,07 & 0,14 & 0 & 0,25 \\ 0 & 0 & 0 & 0 & 1 & 4 \\ 0 & 0 & 0 & 0 & 1 & 2 \\ 0 & 0 & 0 & 0 & 0 & 0 \\ 0 & 0 & 0 & 0 & 0 & 0 \end{pmatrix}$$

Neu dabei sind: $a_{16} = 0,50$ und $a_{26} = 0,25$.

- 1) Zeichnen Sie diese beiden neuen Verflechtungen im nachstehenden Gozinto-Graphen ein. [0/1 P.]



Der Vektor \vec{x} soll die benötigten Mengen an reinen Puddingsorten, Mischsorten und Packungen (in der Reihenfolge S, V, M_1 , M_2 , K, G) beschreiben.

- 2) Ermitteln Sie diesen Vektor \vec{x} für eine Nachfrage von 300 Klein- und 200 Großpackungen. [0/1 P.]

Für eine andere Nachfrage ergibt sich anstelle von \vec{x} der Vektor $\vec{x}_1 = \begin{pmatrix} 461 \\ 264 \\ 1300 \\ 700 \\ 100 \\ 300 \end{pmatrix}$.

- 3) Interpretieren Sie den Eintrag 700 dieses Vektors im gegebenen Sachzusammenhang. [0/1 P.]
- 4) Beschreiben Sie, wie sich eine zusätzliche direkte Nachfrage nach reinem Schokoladepudding im Ausmaß von 100 Litern auf den Vektor \vec{x}_1 auswirkt. [0/1 P.]

c) Der Produktionsprozess wird auf andere Puddingsorten erweitert.

Aus a reinen Puddingsorten werden b verschiedene Mischsorten produziert, die wiederum in c verschiedenen Packungsgrößen abgepackt werden. Die quadratische Matrix \mathbf{B} beschreibt die Produktionsverflechtungen zwischen den reinen Puddingsorten, den Mischsorten und den Packungen.

1) Ordnen Sie den beiden Eigenschaften von \mathbf{B} jeweils die zutreffende Berechnung aus A bis D zu. [0/1 P.]

Anzahl der Matrixelemente von \mathbf{B}	
Anzahl der Zeilen von \mathbf{B}	

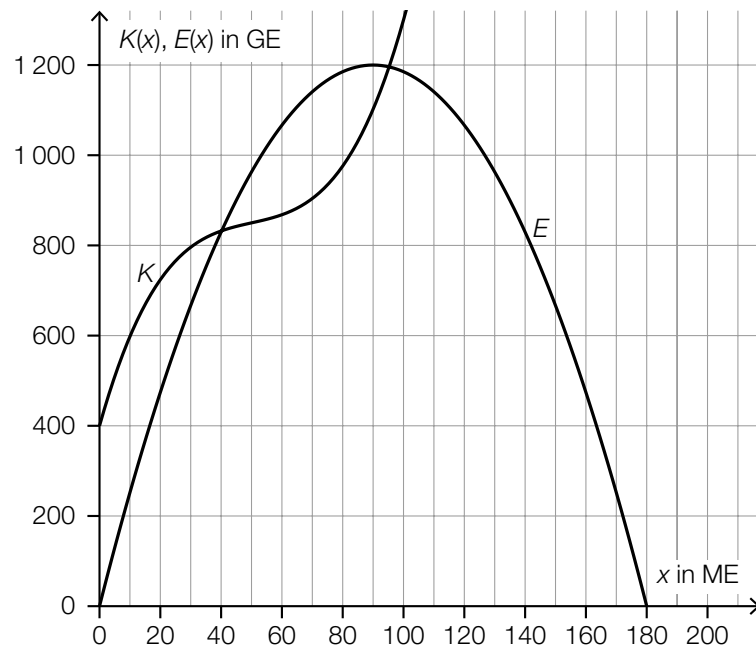
A	$a \cdot b \cdot c$
B	$a + b + c$
C	$(a + b + c) \cdot 2$
D	$(a + b + c)^2$

Aufgabe 8 (Teil B)

Scheiben für PKWs

Ein Betrieb stellt Frontscheiben und Heckscheiben für PKWs her.

- a) In der nachstehenden Abbildung sind der Graph der Kostenfunktion K und der Graph der quadratischen Erlösfunktion E für Frontscheiben eines bestimmten Typs dargestellt.



- 1) Stellen Sie eine Gleichung der quadratischen Erlösfunktion E auf. [0/1 P.]
- 2) Stellen Sie eine Gleichung der zugehörigen Preisfunktion der Nachfrage auf. [0/1 P.]
- 3) Lesen Sie aus der obigen Abbildung die Gewinnzone ab.

[_____ ; _____]

[0/1 P.]

- b) Die variablen Kosten bei der Produktion von Heckscheiben eines bestimmten Typs können durch die Funktion K_v beschrieben werden.

$$K_v(x) = 0,0029 \cdot x^3 - 0,45 \cdot x^2 + 24 \cdot x$$

x ... produzierte Menge in ME

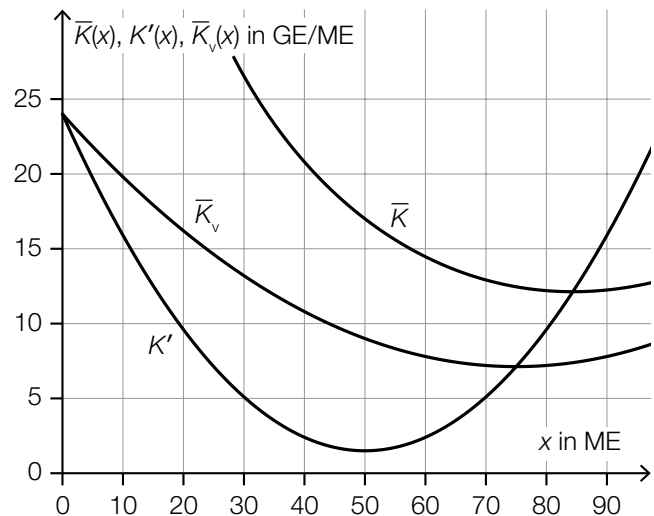
$K_v(x)$... variable Kosten bei der produzierten Menge x in GE

Die Fixkosten betragen 450 GE.

- 1) Berechnen Sie die langfristige Preisuntergrenze.

[0/1 P.]

In der nebenstehenden Abbildung sind der Graph der Durchschnittskostenfunktion \bar{K} , der Graph der Grenzkostenfunktion K' und der Graph der variablen Durchschnittskostenfunktion \bar{K}_v dargestellt.



- 2) Kreuzen Sie diejenige Größe an, die nicht aus der obigen Abbildung abgelesen werden kann. [1 aus 5]

[0/1 P.]

Kostenkehre	<input type="checkbox"/>
Fixkosten	<input type="checkbox"/>
Betriebsminimum	<input type="checkbox"/>
Betriebsoptimum	<input type="checkbox"/>
kurzfristige Preisuntergrenze	<input type="checkbox"/>

Die Preisfunktion der Nachfrage p_N für Heckscheiben dieses Typs ist gegeben durch:

$$p_N(x) = -0,16 \cdot x + 30$$

x ... nachgefragte Menge in ME

$p_N(x)$... Preis bei der nachgefragten Menge x in GE/ME

- 3) Geben Sie den Höchstpreis an.

[0/1 P.]

- 4) Berechnen Sie den Cournot'schen Preis.

[0/1 P.]

Aufgabe 9 (Teil B)

Zinsentwicklung

Die Zinssätze für Kredite und Spareinlagen unterliegen zeitabhängigen Schwankungen.

- a) Der Zinssatz für einen Kredit bei einer Bank ist unter anderem auch davon abhängig, welchen Verwendungszweck dieser hat.

Konsumkredite dienen der Finanzierung von Konsumgütern oder Dienstleistungen.

Immobilienkredite dienen der Wohnbaufinanzierung.

In der nachstehenden Tabelle ist die Entwicklung der Zinssätze für beide Verwendungszwecke im Zeitraum von 2000 bis 2004 in Österreich dargestellt.

Jahr	2000	2001	2002	2003	2004
Zinssatz für Konsumkredite in % p. a.	6,63	6,69	6,06	5,42	5,18
Zinssatz für Immobilienkredite in % p. a.	5,87	5,93	5,35	4,41	3,90

Datenquelle: <https://www.oenb.at/Statistik/Standardisierte-Tabellen/zinssaetze-und-wechselkurse/Zinssaetze-der-Kreditinstitute.html> [04.08.2021].

- 1) Stellen Sie eine Gleichung der Regressionsgeraden für den Zusammenhang zwischen dem Zinssatz für Konsumkredite x und dem Zinssatz für Immobilienkredite y im angegebenen Zeitraum auf. [0/1 P.]
- 2) Beurteilen Sie mithilfe des Korrelationskoeffizienten, ob die Regressionsgerade ein geeignetes Modell darstellt, um diesen Zusammenhang zu beschreiben. [0/1 P.]

Der Zinssatz im Jahr 2005 betrug für Konsumkredite 4,89 % p. a. und für Immobilienkredite 3,58 % p. a.

- 3) Berechnen Sie die Differenz zwischen dem tatsächlichen Zinssatz für Immobilienkredite im Jahr 2005 und dem mithilfe der Regressionsgeraden ermittelten entsprechenden Zinssatz. [0/1 P.]

- b) Bei Abschluss eines Kreditvertrags kann festgelegt werden, ob der Zinssatz während der gesamten Laufzeit konstant bleibt oder ob sich der Zinssatz entsprechend der aktuellen Marktlage immer wieder verändert.

In der nachstehenden Tabelle ist ein Ausschnitt aus einem Tilgungsplan dargestellt.

Jahr	Zinsanteil	Tilgungsanteil	Annuität	Restschuld
0				€ 50.000,00
1	€ 2.100,00	€ 4.900,00	€ 7.000,00	€ 45.100,00
2	€ 1.894,20	€ 5.105,80	€ 7.000,00	€ 39.994,20
3	€ 1.399,80		€ 7.000,00	

- 1) Überprüfen Sie nachweislich, ob sich der Zinssatz innerhalb der dargestellten 3 Jahre verändert hat. [0/1 P.]
 - 2) Tragen Sie in der obigen Tabelle die beiden fehlenden Beträge im Jahr 3 ein. [0/1 P.]
- c) Ein Geldbetrag B wird 2 Jahre lang mit dem Jahreszinssatz i_0 verzinst, danach weitere 3 Jahre mit einem geänderten Jahreszinssatz i_1 .

- 1) Stellen Sie eine Formel für den Endwert E am Ende dieser 5 Jahre auf. Verwenden Sie dabei B , i_0 und i_1 .

$$E = \underline{\hspace{10em}} \quad [0/1 P.]$$

- 2) Berechnen Sie für $i_0 = 3\%$ und $i_1 = 1\%$ denjenigen gleichbleibenden Jahreszinssatz i , bei dem der Betrag B innerhalb von 5 Jahren auf den gleichen Endwert E anwächst.

[0/1 P.]